









































Rewalidacja klasa IV

Jeżeli masz możliwość wydrukuj i wykonaj zadanie jeżeli nie posiadasz drukarki odeślij pierwszą kartę tylko z odpowiedziami napisz na kartce i wyślij zdjęcie

jolanta.nenko@onet.pl

w razie problemów proszę dzwonić 792-506-229

	A	B	C	D	E	F	G	H	I	J
1										
2										
3										
4										
5										
6										
7										
8										
9										
10										

	D 2			
				
				
				
				

Który zegar wskazuje godzinę 5:00?



Oblicz, ile czasu upłynęło:

od godziny 5 rano do 5 po południu - godzin

od godziny 7 rano do 9 wieczorem - godzin

od godziny 11 rano do 8 wieczorem - godzin

od północy do następnej północy - godziny

od godziny 3 w nocy do 7 rano - godziny

Ile czasu upływa między podanymi godzinami?

Od godziny 6 rano do 10 rano - godz.

Od godziny 7 rano do 12 w południe - godz.

Od 2 w nocy do 11 przed południem - godz.

Od godziny 13 do 22 - godz.

Od godziny 0 do godz. 9 rano - godz.

Od godziny 5 rano do 9 rano - godz.

Od godziny 1 w nocy do 7 rano - godz.