

1. Proszę napisać w zeszycie zdania według wzoru:









**30.03.2020r.**








**Dzisiaj jest poniedziałek.**

*Zdanie opisujące pogodę – poproś kogoś dorosłego o pomoc. ☺*

2. Aby dowiedzieć się jaki jest temat dzisiejszych zajęć, musisz rozwiązać szyfr. W okienku narysuj hasło, które rozszyfrowałeś.

Jeśli nie możesz wydrukować karty pracy wpisz do zeszytu rozwiązanie szyfru, a pod nim narysuj odpowiedni obrazek.

			
A	B	D	E
			
K	N	R	Z

Tu narysuj hasło, które wyszło po rozwiązaniu szyfru. Już wiesz jaki jest temat zajęć? ☺

3. Wydrukuj poniższą kartę pracy, wklej do zeszytu i połącz liniami zwierzę i odgłos jaki wydaje. Poćwicz czytanie. Jeśli nie możesz wydrukować ćwiczenia, przepisz (drukowanymi literami) poniższe napisy i poćwicz ich czytanie.

Obejrzyj uważnie obrazki poniżej – jakie to zwierzęta? Jaki dźwięk wydają?  
Spróbuj przeczytać napisy (odgłosy) i dopasuj je do odpowiednich zwierząt.



MIAU MIAU
GĘ GĘ
KO KO
IO IO
ME ME
HAU HAU
PI PI
BE BE
MU MU
PI PI



4. Proszę wykonać jedno z poniższych zadań.

#### Zadanie 1

Obejrzyj filmik i przypomnij sobie czym jest mnożenie i jak się je wykonuje.

<https://www.youtube.com/watch?v=MD43cZvED5k>

Następnie wydrukuj poniższą kartę pracy i wykonaj zadanie. Jeśli nie możesz wydrukować przepisuj działania do zeszytu i połącz w pary.

Połącz w pary dodawanie i mnożenie – pokoloruj na ten sam kolor pasujące do siebie działania. Nie musisz liczyć jaki jest wynik.

2+2+2+2+2      2 • 3      4+4+4

3+3+3+3      3+3

3 • 4      5 • 2

4 • 3      2+2+2+2+2+2      6 • 2

#### Zadanie 2

Obejrzyj filmik i przypomnij sobie jak dodaje się wewnątrz drugiej dziesiątki.

Następnie przepisuj poniższe działania do zeszytu i policz.

<https://www.youtube.com/watch?v=pN8hW4DfUtQ&t=111s>

$11 + 6 =$

$13 + 6 =$

$15 + 3 =$

$16 + 4 =$

$17 + 2 =$

$12 + 5 =$



## Zadania dla chętnych

### Mnożenie

[https://www.matzoo.pl/klasa2/dopasuj-mnozenie\\_9\\_601](https://www.matzoo.pl/klasa2/dopasuj-mnozenie_9_601)

[https://www.matzoo.pl/klasa2/dodaje-i-mnoze\\_9\\_605](https://www.matzoo.pl/klasa2/dodaje-i-mnoze_9_605)

### Dodawanie

[https://www.matzoo.pl/klasa2/dodawanie-z-przekraczaniem-progu-dziesiatkowego\\_7\\_10](https://www.matzoo.pl/klasa2/dodawanie-z-przekraczaniem-progu-dziesiatkowego_7_10)

[https://www.matzoo.pl/klasa2/dodawanie-z-rozpisywaniem-w-zakresie-20\\_7\\_317](https://www.matzoo.pl/klasa2/dodawanie-z-rozpisywaniem-w-zakresie-20_7_317)

**Proszę o wysłanie zdjęć wykonanych zadań na:**

**- mój telefon komórkowy,**

**albo**

**- maila [paniola2020@gmail.com](mailto:paniola2020@gmail.com)**

**Proszę również o informację,  
czy dzisiejsze ćwiczenia dziecko wykonało:**

**a) samodzielnie,**

**b) z niewielką pomocą osób dorosłych,**

**c) z dużą pomocą osób dorosłych.**

**W razie problemów / pytań proszę o kontakt. 😊**