

1. Proszę napisać w zeszycie zdania według wzoru:









**30.03.2020r.**








**30 III 2020r.**

**Dzisiaj jest poniedziałek.**

*Zdanie opisujące pogodę – jeśli samodzielne pisanie jest dla Ciebie zbyt trudne poproś kogoś dorosłego o pomoc. 😊*

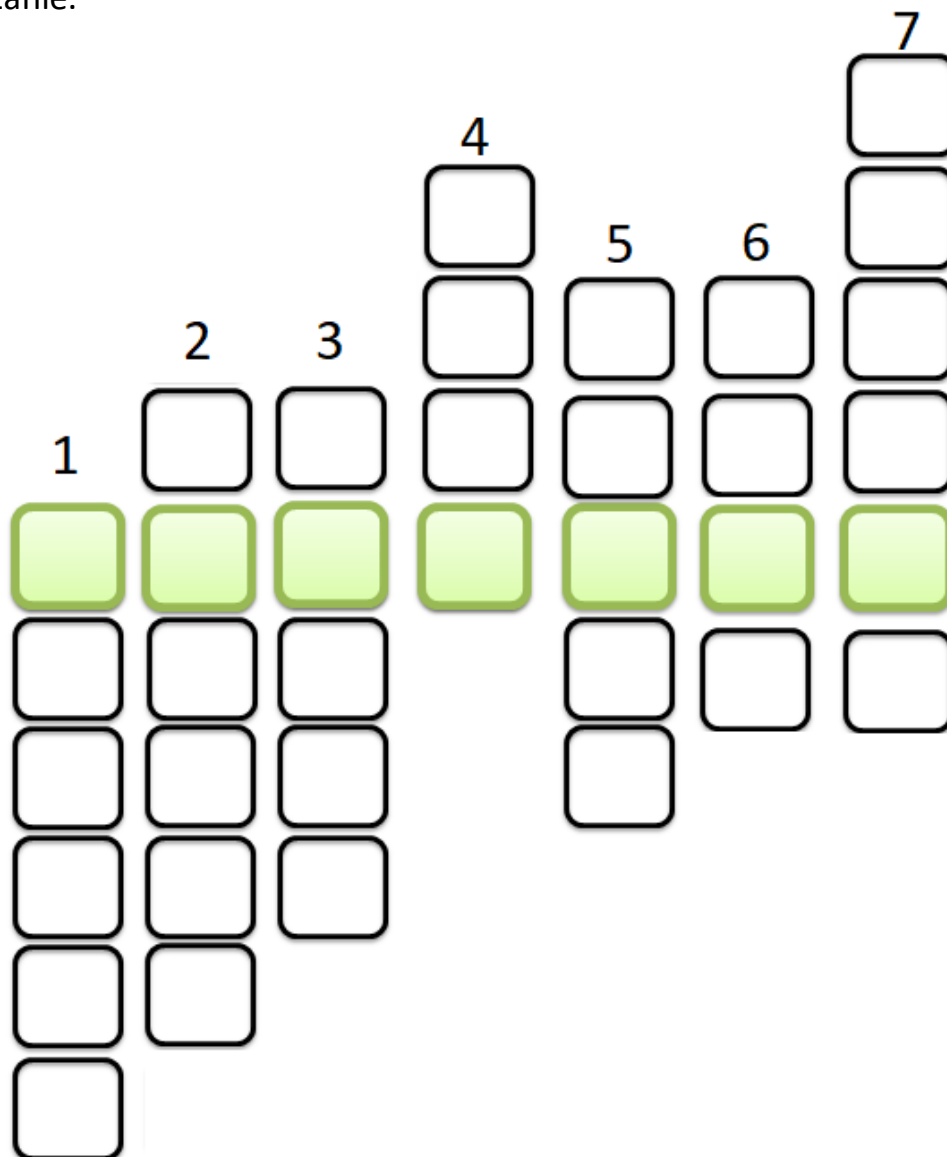
2. Aby dowiedzieć się jaki jest temat dzisiejszych zajęć, musisz rozwiązać szyfr. W okienku narysuj hasło, które rozszyfrowałeś. Jeśli nie możesz wydrukować karty pracy wpisz do zeszytu rozwiązanie szyfru, a pod nim narysuj odpowiedni obrazek.

			
A	B	D	E
			
K	N	R	Z

*Tu narysuj hasło, które wyszło po rozwiązaniu szyfru. Już wiesz jaki jest temat zajęć? 😊*

3. Rozwiąż poniższą krzyżówkę – wydrukuj kartę pracy i wklej do zeszytu.  
Jeśli nie możesz wydrukować przepisz hasła 1-7 do zeszytu i napisz jakie jest rozwiązanie.



**HASŁO:** .....

1. Ptak z długim czerwonym dziobem, symbol wiosny.
2. Kto robi kwa, kwa, kwa?
3. Zwierzę w łący, daje mleko.
4. Znosi jajka.
5. Jeden koń, a dwa...
6. Mówi się, że to najlepszy przyjaciel człowieka...
7. ... morska – kuzynka chomika.

4. Proszę wykonać jedno z poniższych zadań.

#### Zadanie 1

Obejrzyj filmik i przypomnij sobie czym jest mnożenie i jak się je wykonuje.

<https://www.youtube.com/watch?v=MD43cZvED5k>

Następnie wydrukuj poniższą kartę pracy i wykonaj zadanie. Jeśli nie możesz wydrukować przepisuj działania do zeszytu i połącz w pary.

Połącz w pary dodawanie i mnożenie – pokoloruj na ten sam kolor pasujące do siebie działania. Nie musisz liczyć jaki jest wynik.

2+2+2+2+2

2 • 3

4+4+4

3 • 4

3+3+3+3

3+3

5 • 2

4 • 3

2+2+2+2+2+2

6 • 2

#### Zadanie 2

Obejrzyj filmik i przypomnij sobie jak dodaje się wewnątrz drugiej dziesiątki.

Następnie przepisuj poniższe działania do zeszytu i policz.

<https://www.youtube.com/watch?v=pN8hW4DfUtQ&t=111s>

$11 + 6 =$

$13 + 6 =$

$15 + 3 =$

$16 + 4 =$

$17 + 2 =$

$12 + 5 =$



## Zadania dla chętnych

### **Mnożenie**

[https://www.matzoo.pl/klasa2/dopasuj-mnozenie\\_9\\_601](https://www.matzoo.pl/klasa2/dopasuj-mnozenie_9_601)

[https://www.matzoo.pl/klasa2/dodaje-i-mnoze\\_9\\_605](https://www.matzoo.pl/klasa2/dodaje-i-mnoze_9_605)

### **Dodawanie**

[https://www.matzoo.pl/klasa2/dodawanie-z-przekraczaniem-progu-dziesiatkowego\\_7\\_10](https://www.matzoo.pl/klasa2/dodawanie-z-przekraczaniem-progu-dziesiatkowego_7_10)

[https://www.matzoo.pl/klasa2/dodawanie-z-rozpisywaniem-w-zakresie-20\\_7\\_317](https://www.matzoo.pl/klasa2/dodawanie-z-rozpisywaniem-w-zakresie-20_7_317)

**Proszę o wysłanie zdjęć wykonanych zadań na:**

**- mój telefon komórkowy,**

**albo**

**- maila [paniola2020@gmail.com](mailto:paniola2020@gmail.com)**

**Proszę również o informację,  
czy dzisiejsze ćwiczenia dziecko wykonało:**

**a) samodzielnie,**

**b) z niewielką pomocą osób dorosłych,**

**c) z dużą pomocą osób dorosłych.**

**W razie problemów / pytań proszę o kontakt. 😊**