

Zapisz w zeszycie datę i zdanie, tak jak poniżej.

19.06.2020 r.

Dzisiaj jest piątek.

Ponumeruj obrazki zgodnie z historyjką, która miała miejsce.  
Obrazki oczywiście są wymieszane. Pomyśl co zaszło. ☺

Dzieci szukały truskawek na krzaczkach.

Najpierw znalazły jedną, a potem...






Jola jadła arbuza. Robiła gryz za gryzem.



Porównaj liczby. Która jest większa?

Wpisz pomiędzy każdą parę liczb odpowiedni znak.  $>$  albo  $<$

Jeśli potrzebujesz możesz rysować obok truskawek kropki/kreski, żeby porównać gdzie będzie więcej. ☺



Wykonaj zadania w swoich ćwiczeniach.  
Elementarz Odkrywców, Matematyka, część 2  
zadanie 1 strona 42

Nazwij obrazki w każdym rzędzie. Z pierwszych głosek utwórz nowe słowo.  
Odszukaj odpowiedni obrazek i wstaw go w miejsce znaku zapytania.



?

-----

-----

-----

-----

-----



?

-----

-----

-----

-----

-----



?

-----

-----

-----

-----

-----



?

-----

-----

-----

-----

-----

